




Veseli razred





Pitanja za sliku na stranici 7

1. Koliko dječaka gleda plakat na stolu?
2. Što je dječak podignuo uvis?
3. Leži li školska torba na tlu?
4. Koliko je djevojčica na slici?
5. Leži li nešto na vrhu police s knjigama?
6. Postoji li okrugli stol na slici?
7. Koliko je stolaca na slici?
8. Koliko je stolaca na kojima sjede djeca?

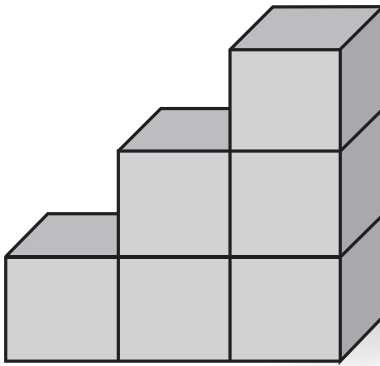




Zabavni brojevi

1. Po stubama

Ivo je počeo graditi stubište svojim drvenim kockicama. Ovako je kockicama izgradio stubište visoko 3 stube.



Koliko će mu još kockica trebati ako poželi sagraditi stubište visoko 9 stuba?






Prepoznavanje sjena

Sve je zapetljano!

Previše je krakova na ovoj slici jer je previše sjena hobotnice. Možeš li pronaći pravu?





Čarobni krugovi

Gledaj u središte kruga 30 sekundi. Namotava li se spirala prema unutra ili se razmotava prema van?

