


105. POVEŽI ŽIVOTINJE I NJIHOVE NAZIVE.



• KOKOŠ



• KRAVA



• ŠIŠMIŠ



• ZMIJA

106. NACRTAJ MANJU LOPTU.



107. ZAOKRUŽI MANJI BROJ.

11

8

13

14

5

15


20

18

108. KOLIKO JE BOJICA?



+



ANA IMA 4 BOJICE.
NAŠLA IH JE JOŠ ____.
UKUPNO IMA ____ BOJICA.

$$4 + \underline{\quad} = \underline{\quad}$$

109. UPIŠI SLOVA KOJA NEDOSTAJU.




ČEŠA__



__RATA



__NJIGA



__AS



__UTOBUS



__TICA



KREVE__



__OPTA



ST__L



__ČELA



__RUŠKA



__ORBA



J__BUKA



__RAFNA



__UTIJA

110. KOLIKO JE KIŠOBRANA?



IMAŠ 5 KIŠOBRANA.
NACRTAJ JOŠ 5 KIŠOBRANA.
UKUPNO IMAŠ ____ KIŠOBRANA.

$$5 + _ = _$$

111. ZAOKRUŽI ŠTO JE NA SLICI.



IGRA

SNIJEG


PUSTINJA

RIJEKA

ŠUMA

ŠKOLA

112. **DUŽU** ZMIJU OBOJI PLAVO.
KRAĆU ZMIJU OBOJI ZELENO.



113. ZAOKRUŽI ŠTO POČINJE SLOVOM **K**.



LIMENKA

VUK

KUKURUZ



114. UPIŠI SLOVA KOJA NEDOSTAJU.



PČE__



ZDJE__



115. PREBROJI LJUBIMCE.




PSI



MAČKE



RIBE



PSI ____

MAČKE ____

RIBE ____

116. KOLAČI

U ŠKOLI JE ORGANIZIRANA
HUMANITARNA PRODAJA KOLAČA.
UZ MAMINU SAM POMOĆ ISPEKLA
SVOJU OMILJENU ČOKOLADNU TORTU.
UKRASILA SAM JE SAMA. JEDVA ČEKAM
VIDJETI HOĆE LI SE I DRUGIMA SVIDJETI.



1. ŠTO SE PRODAVALO U ŠKOLI?

U ŠKOLI SU SE PRODAVALI

2. KOJI JE MOJ OMILJENI KOLAČ?

TO JE TORTA.



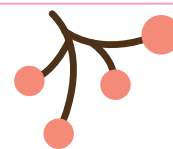
3. TKO JE SA MNOM NAPRAVIO TORTU?

JE S TOBOM
NAPRAVILA TORTU.



4. ŠTO SAM SAMA NAPRAVILA?

SAMA SI




117. JABUKE

NA STABLU JE BILO 12 JABUKA. ANA JE UBRALA DVIJE JABUKE. KOLIKO JE JABUKA OSTALO NA STABLU?



$$12 - \underline{\quad} = \underline{\quad}$$

118. ZAKRŽUŽI ŠTO JE NA SLICI.



STOLICA POLICA



SIR


ŽIR



KOST

TOST

119. OBOJI **NAJVIŠI** SLADOLED U RUŽIČASTU
BOJU. OBOJI **NAJNIŽI** SLADOLED
U SMEĐU BOJU.



120. OBOJI PJEČI KOJE SE
RIMUJU S TUGA.

KOKOŠ



DRAGA

VAGA



MAČKA

ZVONO

10

ŠPAGA

VLAGA



DUGA

DESET



BAČVA

121. IMAŠ 8 POKLONA.
AKO ODMOTAŠ JEDAN,
KOLIKO IH JE OSTALO
ZAMOTANO?

$$8 - \underline{\quad} = \underline{\quad}$$



122. UPIŠI SUSJEDNE BROJEVE
KOJI NEDOSTAJU.

