

116. Doprši rečenice.


jedrilice    brod    čamac    trajekt

Vjetar puše u jedra moje

\_\_\_\_\_.

Tata je za naše  
ljetovanje kupio gumeni

\_\_\_\_\_.



117. Presloži slova i napiši ispravnu riječ.

strašno    visoko    nevolja    nemoć

emncó \_\_\_\_\_

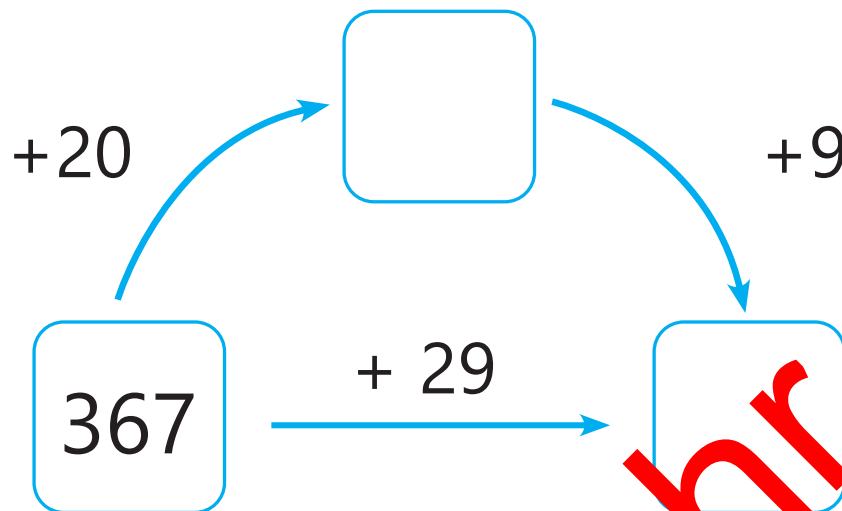
nljvoae \_\_\_\_\_

kisvoo \_\_\_\_\_

toašnrš \_\_\_\_\_

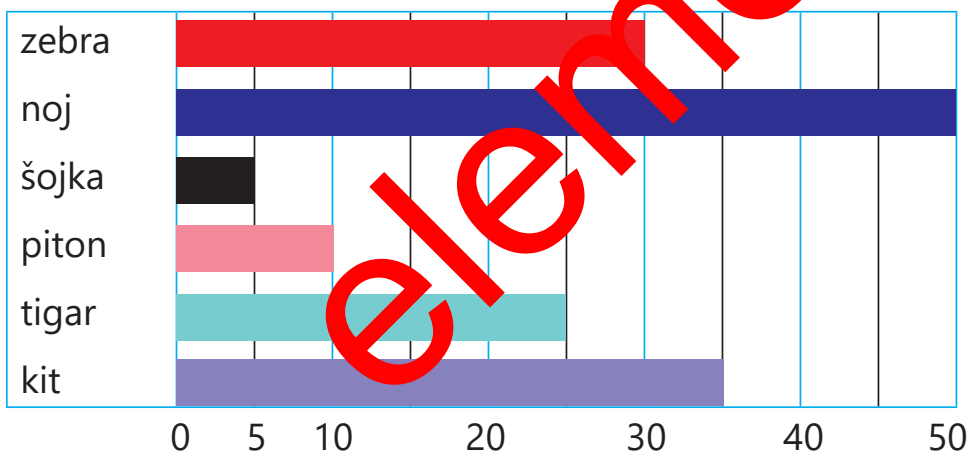


## 118. Zbroji brojeve.



Zbroj zbrojeva 367 i 29 je \_\_\_\_\_.

## 119. Koliko dugo žive životinje?




- \_\_\_\_\_ može živjeti 35 godina.
- Noj može živjeti \_\_\_\_\_ godina.
- \_\_\_\_\_ ima kraći život od pitona.
- Tigar živi \_\_\_\_\_ godina kraće od zebre.
- \_\_\_\_\_ životinje mogu živjeti duže od 30 godina.

## 120. Dvije rečenice poveži u jednu rečenicu.

U jezeru žive kornjače.

U jezeru žive žabe.



i

## 121. U svaki kružić upiši jedno slovo.

dar



jabuka



priredba



dabar



## 122. Što je zajedničko?

torba  
ruksak  
vrećica


fotelja  
stolac  
klupa

maska  
peraje  
disalica


kalendar  
sat  
štoperica

## 123. Zbrajanje i oduzimanje

Nataša je imala 9 kišobrana. Potrgala ih je 6. Koliko joj je kišobrana ostalo?



U krdu je 6 slonova. Došlo ih je još 4. Koliko je ukupno slonova?



124. Podijeli 24 lista u 4 jednake skupine. Koliko je listova u svakoj skupini?



U svakoj skupini je \_\_\_\_\_ listova.

## 125. Doprši rečenice.

biljke

zalijsva

vrtlar

zemplju

1. Šime je \_\_\_\_\_.

2. On uzgaja različite \_\_\_\_\_.

3. \_\_\_\_\_ ih redovito.

4. Čisti \_\_\_\_\_ od korova.



## 126. Zbroji brojeve.

$$2 + 2 + 5 = \underline{\quad}$$

$$21 + 7 + 21 = \underline{\quad}$$

$$10 + 34 + 4 = \underline{\quad}$$

$$76 + 16 + 3 = \underline{\quad}$$

$$9 + 79 + 1 = \underline{\quad}$$

$$48 + 4 + 18 = \underline{\quad}$$

127. Iz svake epruvete uzmi slovo i napravi riječ! Svako slovo možeš upotrijebiti samo jednom.

A	N	Đ	E	O

<del>A</del>	U
J	E
S	<del>N</del>
Z	B
O	U

<del>Đ</del>	LJ
L	R
M	A
N	<del>E</del>
T	C

<del>O</del>
E
O
K
A

<del>A</del>
K
T
H
P

R
<del>Č</del>
<del>T</del>
E
NJ

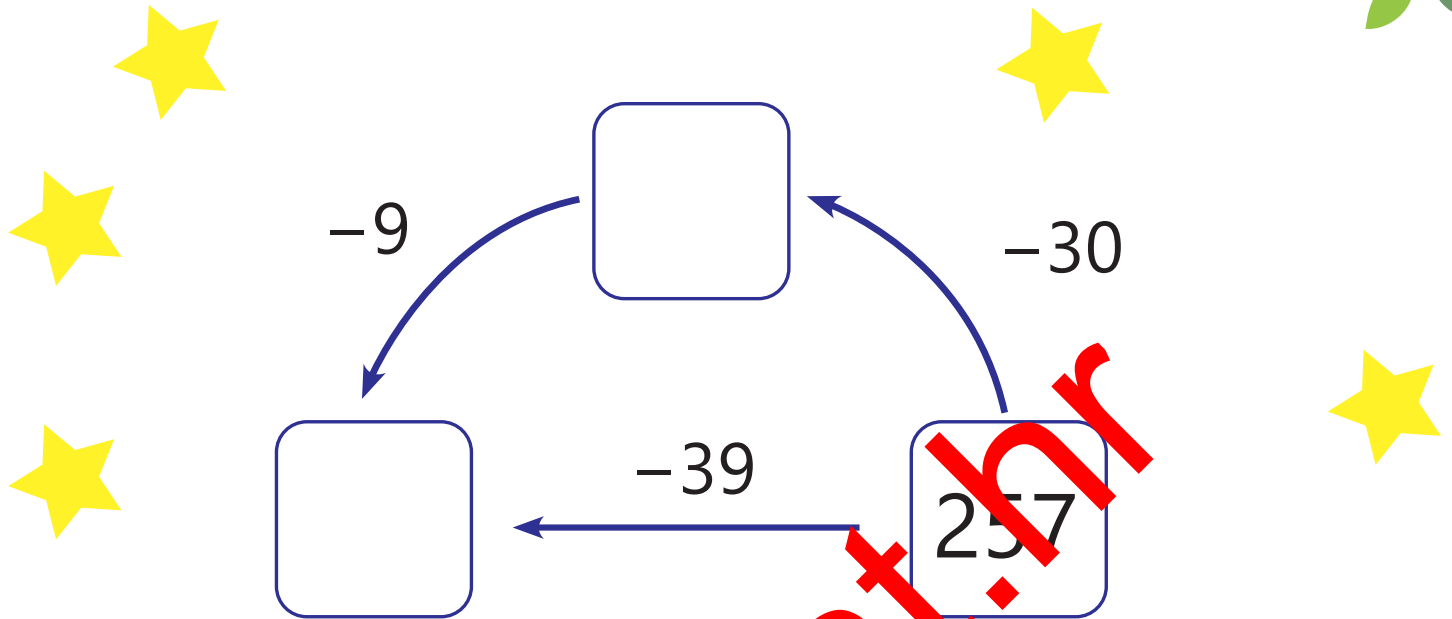
<del>Č</del>
I
E
<del>Č</del>
<del>L</del>

G
A
I
<del>A</del>
L

<del>S</del>
H
A
A
K

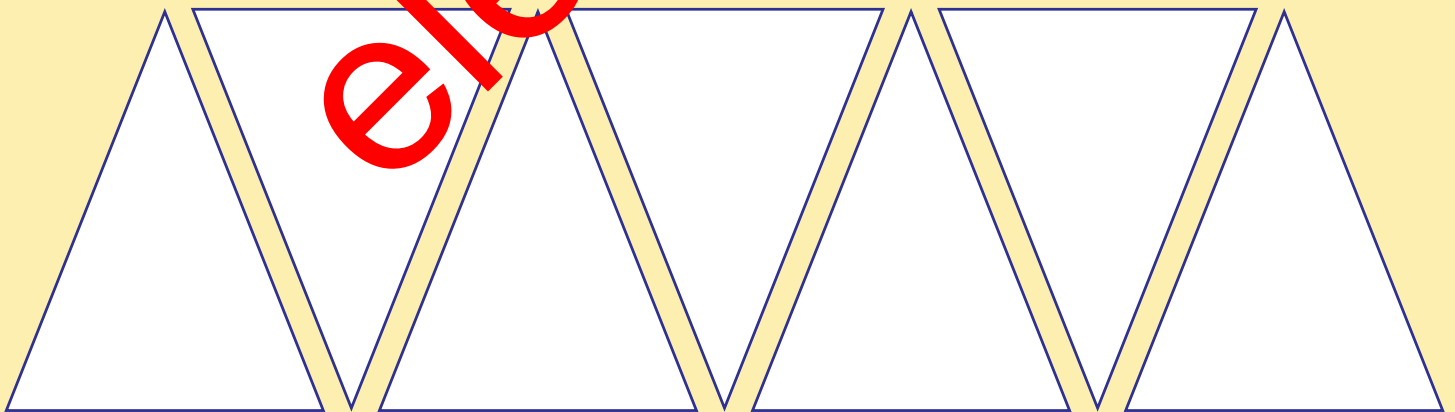
A	T	L	A	S

## 128. Oduzmi brojeve.



Razlika brojeva 257 i 39 je \_\_\_\_\_.

129. U svakom trokutu nacrtaj 2 zvijezde.



7 grupa po 2 zvijezde = \_\_\_\_\_ zvijezda.

130. Zaokruži brojeve na najbližu deseticu.

56

72

18


21

34

97

131. Prepoznaj razlomak.

Traka je podijeljena na \_\_\_ jednaka dijela.  
\_\_\_ dio je zasjenjen.




Zelena točka je na  $\frac{1}{3}$  udaljenosti od 0 do 1.

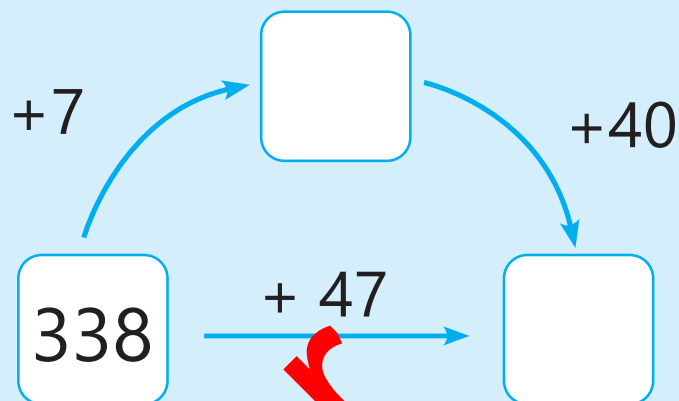
$\frac{1}{3}$  je 1 od \_\_\_ jednaka dijela.



## 132. Zbroji brojeve.



Zbroj brojeva  
338 i 47 je \_\_\_\_\_.



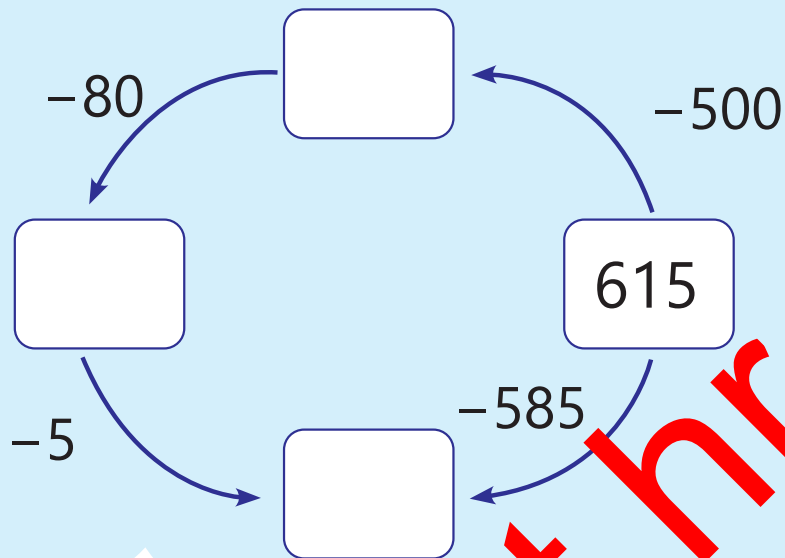
133. Pekar je pripremio kruh za pečenje. Svaki je kruh 3 puta zarezao. Ima 5 komada za ispeći. Koliko je puta ukupno zarezao?

5 komada kruha s po 3 zarezivanja  
= \_\_\_\_\_ zarezivanja.

Ukupno je zarezao \_\_\_\_\_ puta.



## 134. Oduzmi brojeve.



Razlika brojeva 615 i 585 je \_\_\_\_\_.

## 135. Osmosmjerk

M	D	H	V	Ž	U	K	N	E	L	
T	E	A	N	K	I	A	C	I	R	
M	R	D	U	I	R	R	S	B	A	
M	N	M	V	V	P	I	A	Č	U	
P	A	U	A	J	C	U	A	F	G	
O	V	L	K	A	E	N	J	D	I	A
N	A	T	C	A	R	D	R	T	J	
I	R	A	P	O	R	C	S	N	E	
K	K	A	K	Č	A	M	K	Z	A	
A	C	I	R	U	P	Č	E	L	A	

Pronađi sljedeće riječi:

DUPIN JAGUAR  
 KORNJAČA KRAVA  
 LISICA MAČKA  
 MEDVJED MRAV  
 NARVAL PČELA  
 PONI PURICA  
 RAKUN ŽIRAFA