

LOGIČKI ZADATCI



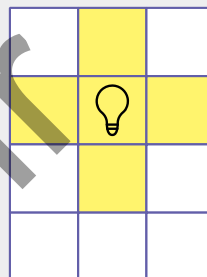
ZADATCI BEZ BROJEVA

1.


BEZ BROJEVA

KAD UPALITE ŽARULJU, OSVIJETLE SE POLJA KAO NA SLICI.


NA KOJOJ SU SLICI ŽARULJE POSTAVLJENE TAKO DA SU OSVIJETLJENA SVA POLJA?




A.



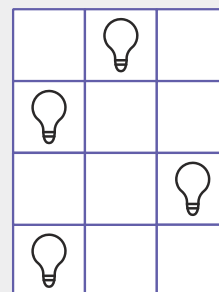
B.



C.



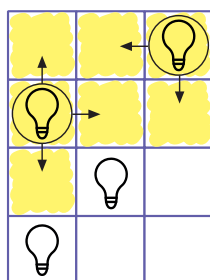
D.




POMOĆ. OBOJITE OKO SVAKE ŽARULJE POLJE ZDESNA, SLIJEVA, IZNAD I ISPOD NJEGA.

NASTAVITE BOJENJE.

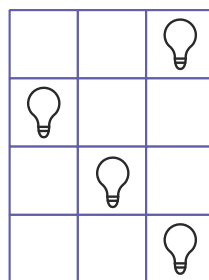
A.




B.



C.



D.



TOČAN ODGOVOR JE ____.

2.

BEZ BROJEVA

IVO, ANA, LEA, TIN I VID STALI SU U KRUG I PRIMILI SE ZA RUKU.

VID JE DRŽAO IVU I LEU, A ANA NIJE DRŽALA LEU.

KOGA JE DRŽAO TIN?

A. ANU I LEU

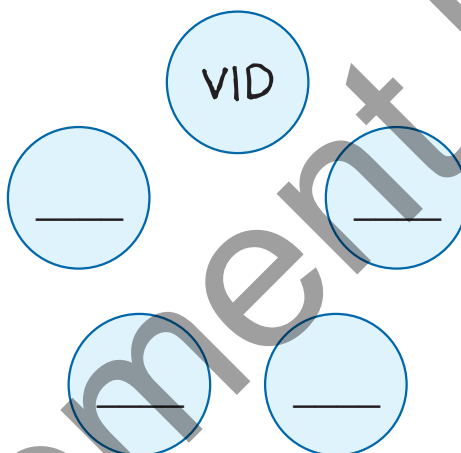
B. ANU I IVU

C. LEU I IVU

D. NIŠTA OD NAVEDENOGA

POMOĆ. PAŽLJIVO PROČITAJTE ZADATAK.

UPIŠITE IMENA U KRUŽIĆE ONAKO KAKO DJECA STOJE U KRUGU.
U BILO KOJI KRUG UPISUJETE IME VID.




U KRUGOVE PORED VIDA UPISUJETE IVU I LEU.

ANA NE SMIJE BITI PORED LEE.

U PREOSTALI KRUG UPISUJETE IME TIN.

PORED TINA NALAZE SE _____ I _____.

TOČAN ODGOVOR JE _____.



3.

BEZ BROJEVA

AVA, DEA I EMA STANUJU U ISTOJ ULICI.

NA PUTU ZA ŠKOLU DEA UVIJEK POZVONI AVI I ZAJEDNO NASTAVLJAJU PUT.

KAD SE VRAĆAJU IZ ŠKOLE, PRVO ISPRATE EMU.

NAKON TOGA DEA I AVA IDU DALJE I JOŠ DUGO RAZGOVARAJU.

TKO STANUJE NAJDALJE OD ŠKOLE?

A. EMA

B. AVA

C. DEA

D. NIJE MOGUĆE ODREDITI

POMOĆ. ISPOD KUĆA NAPISAT ĆETE IMENA DJEVOJČICA.



NA PUTU DO ŠKOLE DEA POZVONI AVI PA ZAJEDNO IDU U ŠKOLU.

STANUJE LI AVA BLIŽE ILI DALJE OD ŠKOLE NEGO DEA? ZAOKRUŽITE:

BLIŽE / DALJE

NA PUTU IZ ŠKOLE DJEVOJČICE OTPRATE EMU PA IDU DALJE.

STANUJE LI EMA NAJBLIŽE ILI NAJDALJE OD ŠKOLE? ZAOKRUŽITE:

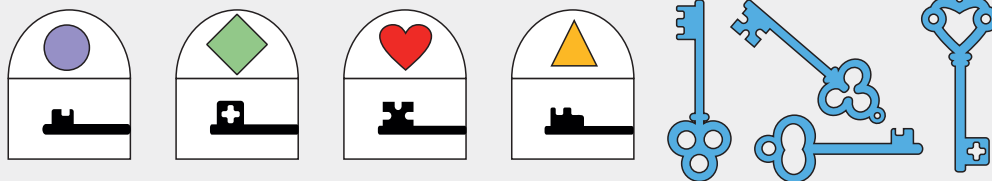
NAJBLIŽE / NAJDALJE

NAJDALJE OD ŠKOLE STANUJE _____.

TOČAN ODGOVOR JE _____.

4. BEZ BROJEVA

KOJI ZNAK IMA BRAVA KOJU NE MOŽETE OTVORITI KLJUČEVIMA?



A. 

B. 

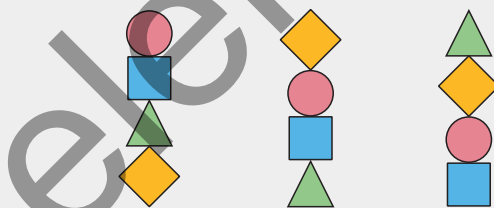
C. 

D. 

Grid area for writing the answer to question 4.

5. BEZ BROJEVA

NA KOJEM ĆE MJESTU BITI TROKUT NACRTATE LI JOŠ JEDAN TORANJ S GEOMETRIJSKIM LIKOVIMA?



A. NA VRHU

B. NA DNU

C. U SREDINI GORNJI

D. U SREDINI DONJI

Grid area for writing the answer to question 5.

6. BEZ BROJEVA

CESTOM VOZE AUTOMOBIL, KAMION I MOTOR.

PLAVO VOZILO JE ISPRED CRVENOG.

ŽUTI MOTOR NIJE PRVI.

KOJA SLIKA NIJE TOČNA?

A.



B.



C.



D.



7. BEZ BROJEVA

IVANA, MARIJA I JULIJA NASTUPILE SU ZAJEDNO NA ŠKOLSKOJ PRIREDBI.

JEDNA OD DJEVOJAKA JE PJEVALA. PREOSTALE DVIJE SVIRALE SU RAZLIČITE INSTRUMENTE.

MARIJA JE PUBLIKU ODUŠEVILA SVOJIM GLASOM.

NAŽALOST, JULIJI JE PUKLA ŽICA NA KRAJU NASTUPA.

KOJA DJEVOJKA SVIRA BUBNJEVE?

A. IVANA

B. MARIJA

C. JULIJA

D. NIJE MOGUĆE ODREDITI

8.

BEZ BROJEVA

BRAĆA MARIN, DUJE I STIPE TRENIRAJU TRI RAZLIČITA SPORTA: NOGOMET, KARATE I PLIVANJE.

KADA SU DOŠLI KUĆI S TRENINGA, MAMA JE BILA LJUTA NA DVA BRATA.

DUJI JE TORBA UPALA U BAZEN, A MARINOVE SU KOPAČKE BILE BLATNJAVE.

TKO TRENIRA KARATE?

A. MARIN

B. DUJE

C. STIPE

D. NIJE MOGUĆE ODREDITI

element.hr





ZADATCI S BROJEVIMA DO 5

9. BROJEVI DO 5

ANA, IVA I MIA STOJE U REDU JEDNA IZA DRUGE NA POLJIMA S BROJEVIMA 1, 2 I 3.

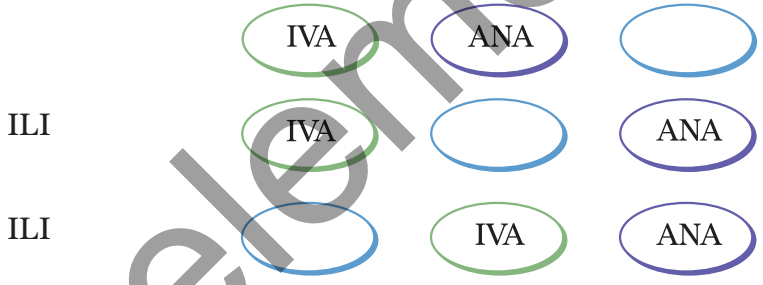


IVA JE ISPRED ANE.
ANA NIJE NA BROJU 3.
TKO JE NA BROJU 3?

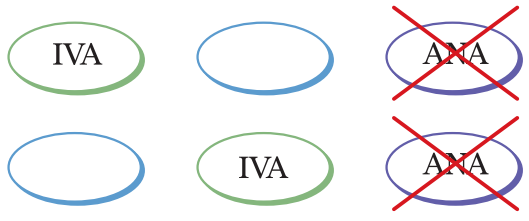
- A. ANA
- B. IVA
- C. MIA
- D. NIJE MOGUĆE ODREDITI

POMOĆ. IVA JE ISPRED ANE.

VIŠE JE MOGUĆNOSTI ZA TO:



ANA NIJE NA BROJU 3.



PREOSTAJE VAM PRVA MOGUĆNOST.



DOPIŠITE IME DJEVOJČICE KOJA JE NA BROJU 3.

TOČAN ODGOVOR JE ____.

10.

BROJEVI DO 5

ANA, IVA I MIA STOJE U REDU JEDNA IZA DRUGE.

IVA JE ISPRED ANE.

ANA NIJE U SREDINI REDA.

TKO JE NA POČETKU REDA?

A. ANA

B. IVA

C. MIA

D. NIJE MOGUĆE ODREDITI

POMOĆ. POGLEDAJTE ŠTO ZNATE.

IVA JE ISPRED ANE.



NE ZNATE GDJE JE MIA.

POSTOJE TRI MOGUĆNOSTI:

- MIA JE NA POČETKU REDA



- MIA JE U SREDINI REDA



- MIA JE NA KRAJU REDA



ALI, ZNATE DA ANA NIJE U SREDINI REDA.

PREKRIŽITE ONE PORETKE GDJE JE ANA U SREDINI REDA.



MOŽETE LI ODREDITI TKO JE NA POČETKU REDA? DA / NE

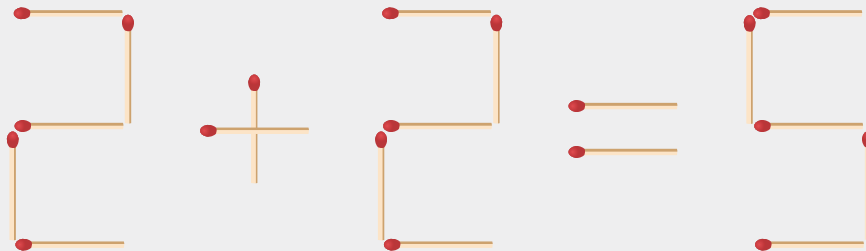
TOČAN ODGOVOR JE ____.

11.

BROJEVI DO 5

AKO JEDNA ŠIBICA PROMIJENI MJESTO, JEDNAKOST ĆE BITI TOČNA.

GDJE SE NALAZI TA ŠIBICA?



A. NA BROJU 2

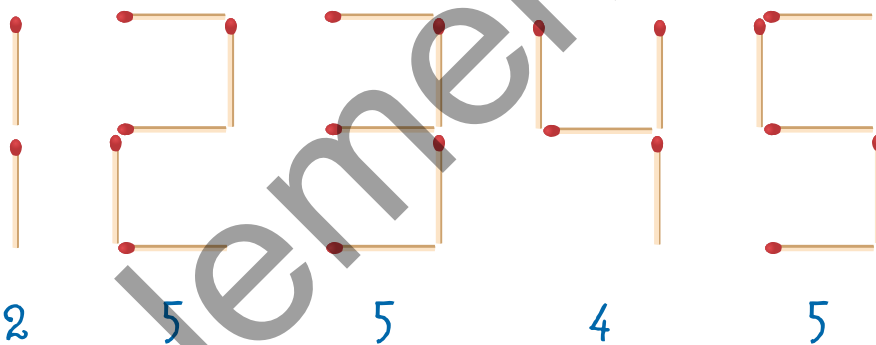
B. NA ZNAKU +

C. NA BROJU 5

D. NE POSTOJI TA MOGUĆNOST

POMOĆ. PRIKAŽITE ŠIBICAMA SVE BROJEVE DO 5.

ISPOD NJIH NAPIŠITE KOLIKO VAM JE ŠIBICA ZA TO TREBALO.



ZA BROJEVE 2, 3 I 5 TREBALI STE JEDNAKO ŠIBICA.

MOŽETE LI PREMJEŠTANJEM JEDNE ŠIBICE:

- OD BROJA 2 NAPRAVITI BROJ 3? DA / NE
- OD BROJA 5 NAPRAVITI BROJ 3? DA / NE
- OD BROJA 5 NAPRAVITI BROJ 2? DA / NE

U JEDNAKOSTI PIŠE DA JE $2 + 2 = 5$.

JEDNAKOST ĆE BITI TOČNA AKO OD BROJA ____ NAPRAVITE
BROJ ____.

TOČAN ODGOVOR JE ____.